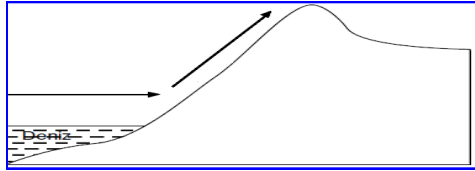
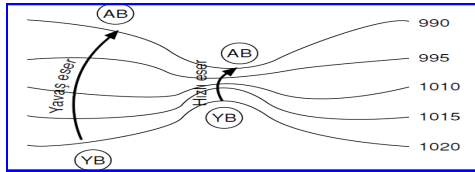
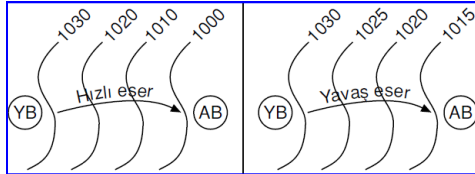


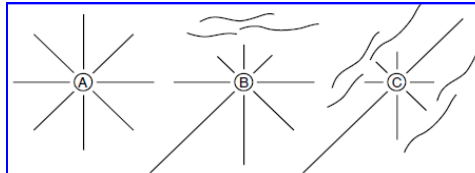
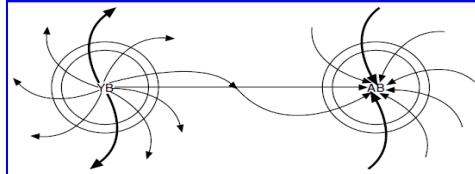
**Aşağıda verilen boşlukları doğru olacak şekilde doldurunuz.**

Yüksek basınç merkezlerinden alçak basınç merkezlerine doğru olan yatay yönlü hava akımlarına ..... denir.

### A-RÜZGARLARIN HIZINI ETKİLEYEN FAKTÖRLER;



### B-RÜZGARLARIN YÖNÜNÜ ETKİLEYEN FAKTÖRLER;



**Aşağıda verilen boşlukları doğru olacak şekilde doldurunuz.**

